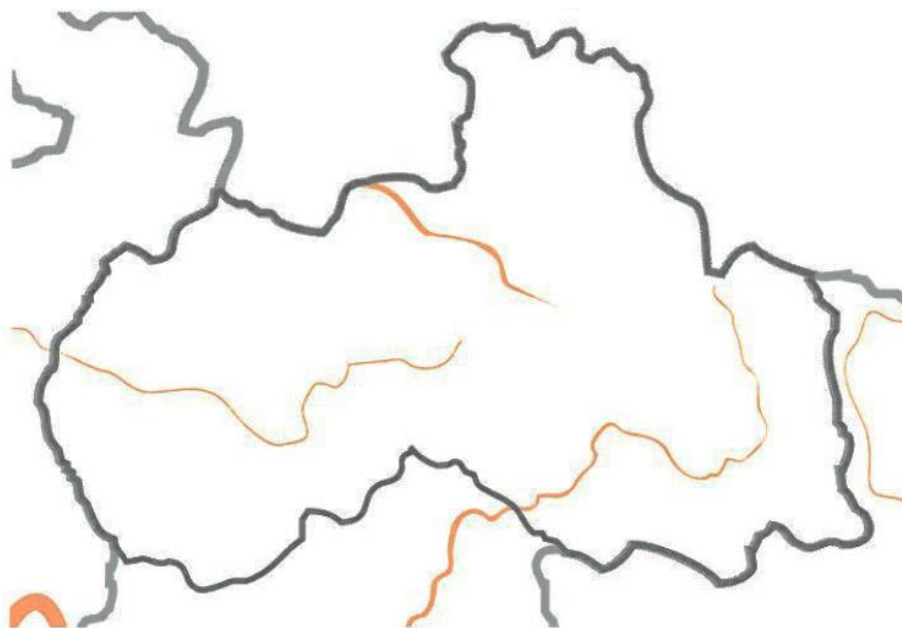


Pracovní list – Liberecký kraj

Zakreslete do slepé mapy (pište pouze čísla):



pohoří

1. Lužické hory
2. Jizerské hory
3. Krkonoše
4. Ještěd
5. Česká tabule

řeky

6. Jizera
7. Nisa (Lužická Nisa)
8. Ploučnice
9. Máchovo jezero

ochrana přírody

CHKO

10. Český ráj
11. Jizerské hory
12. Lužické hory
13. Kokořínsko
14. Národní park Krkonoše

města

15. Liberec

17. Česká Lípa

19. Turnov

16. Jablonec nad Nisou

18. Nový Bor

20. Frýdlant

Se kterými kraji Liberecký kraj sousedí?

Vyznačte na mapě hranice s Polskem a s Německem.

Napište správné písmeno do druhého sloupce tak, jak k sobě jednotlivé dvojice patří:

- A. vrchol s televizním vysílačem
- B. náš nejhlubší rybník
- C. aglomerace
- D. Český ráj
- E. bižuterie
- F. krajské město
- G. Panská skála
- H. Trosky

- Jablonec n. Nisou a Liberec
- skleněné šperky
- Liberec
- Ještěd
- čedičové varhany
- Máchovo jezero
- věže Panna a Baba
- pískovcová skalní města



Trosky



Čedičové varhany

Doplňte text:


Liberecký kraj leží na České republiky. Hraničí s a Hraničními horami jsou , a Krajským městem je Liberecký kraj je nejmenší po Praze. Nachází se zde národní park Řeky Ploučnice a Jizera jsou přítoky řeky , patří k úmoří moře.

Určete správnost tvrzení – označ pravdivé nepravdivé opravte jej.

- Liberecký kraj sousedí s Německem a Polskem.
- Řeka Jizera je levostranným přítokem Labe.
- Řeka Jizera pramení v Lužických horách.
- Máchovo jezero je náš největší rybník.
- Liberecký kraj je rozlohou větší než Pardubický kraj.
- Město Liberec tvoří společně s Českou Lípou aglomeraci.
- Jablonecká bižuterie jsou světoznámé kovové šperky.

Poznejte místa na fotografiích – přiřaďte správné písmeno k fotografii i k textu.:

(A – Český ráj, B – Panská skála, C – Trosky, D – Ještěd)



- hotel a televizní vysílač
- skalní město
- zřícenina hradu
- čedičové varhany

- Kamenický Šenov
- 1012 m n.m.
- pískovec
- Panna a Baba

Najděte na mapě a odpovězte:


- Do které řeky ústí řeka Nisa (Lužická Nisa)? Je levostranným nebo pravostranným přítokem?
- Které pohoří tvoří v Libereckém kraji hranici s Německem?
- Která pohoří tvoří v Libereckém kraji hranici s Polskem?
- Podle jakého města se nazývá „Frýdlantský“ výběžek? *zakroužkuj tento výběžek na slepé mapě.*

Ke každému z vrcholů doplň nadmořskou výšku a pohoří, ve kterém se nacházejí.

	nadmořská výška	pohoří, ve kterém se nachází
Kotel	<input type="text"/>	<input type="text"/>
Ještěd	<input type="text"/>	<input type="text"/>
Smrk	<input type="text"/>	<input type="text"/>
Jizera	<input type="text"/>	<input type="text"/>
Luž	<input type="text"/>	<input type="text"/>
Kozákov	<input type="text"/>	<input type="text"/>
Bezděz	<input type="text"/>	<input type="text"/>



Vrch Kozákov s rozhlednou

Vysvětli, co znamená a kde najdeme logo  ?